

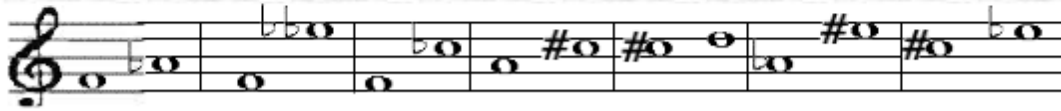



## INTERVALOS MUSICALES

Ahora, escribe en una hoja en blanco  
por orden la clasificación de estos intervalos.



## INTERVALOS MUSICALES

### RESPUESTA DE EJERCICIOS



### Prácticas del valor de las Figuras

- 1) ¿Cuántas negras tiene una redonda?
- 2) ¿Cuántas corcheas tiene una redonda?
- 3) ¿Cuántas semifusas tiene una negra?
- 4) ¿Cuántas fusas tiene una redonda?
- 5) ¿Cuántas semicorcheas tienen dos negras?
- 6) ¿Cuántas fusas tienen dos blancas?
- 7) ¿Cuántas semicorcheas tienen dos fusas?
- 8) ¿Cuántas semicorcheas tienen 3 negras?

- 9) ¿Cuántas fusas tienen 3 negras?
- 10) ¿Cuántas semicorcheas tienen 5 negras?
- 11) ¿Cuántas corcheas tienen 2 negras?
- 12) ¿Cuántas semicorcheas tienen 8 semifusas?
- 13) ¿Cuántas negras tienen 16 fusas?
- 14) ¿Cuántas corcheas tienen 32 fusas?
- 15) ¿Cuántas negras tienen 3 redondas?
- 16) ¿Cuántas corcheas tienen 4 redondas?

### RESPUESTAS

- 1) ¿Cuántas negras tiene una redonda? **4 negras**
- 2) ¿Cuántas corcheas tiene una redonda? **8 corcheas**
- 3) ¿Cuántas semifusas tiene una negra? **16 semifusas**
- 4) ¿Cuántas fusas tiene una redonda? **32 fusas**
- 5) ¿Cuántas semicorcheas tienen dos negras? **8 semicorcheas**

- 6) ¿Cuántas fusas tienen dos blancas? 32 fusas
- 7) ¿Cuántas semicorcheas tienen dos fusas? 1 semicorchea
- 8) ¿Cuántas semicorcheas tienen 3 negras? 12 semicorcheas
- 9) ¿Cuántas fusas tienen 3 negras? 24 fusas
- 10) ¿Cuántas semicorcheas tienen 5 negras? 20 semicorcheas
- 11) ¿Cuántas corcheas tienen 2 negras? 4 corcheas
- 12) ¿Cuántas semicorcheas tienen 8 semifusas? 2 semicorcheas
- 13) ¿Cuántas negras tienen 16 fusas? 2 negras
- 14) ¿Cuántas corcheas tienen 32 fusas? 8 corcheas
- 15) ¿Cuántas negras tienen 3 redondas? 12 negras
- 16) ¿Cuántas corcheas tienen 4 redondas? 32 corcheas